

2nde10 Devoir Surveillé n° 3

- Durée 1 h
- Calculatrices autorisées

Barème :

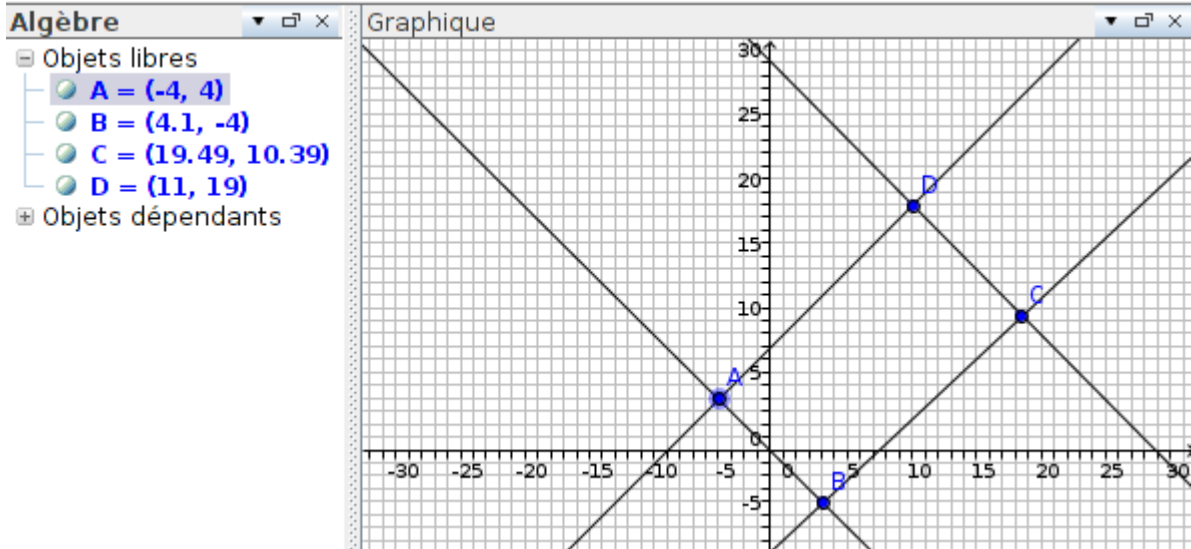
- 1) 5 pts 2) 4 pts 3) 5 pts 4) 3+1 pts
5) 3 pts

Nom :

Commentaires : Lisez l'énoncé en entier avant de commencer et répondez bien aux questions qui vous sont demandées. Vous pouvez faire les exercices dans l'ordre que vous souhaitez. La rédaction est importante. Soyez propre et clair. Bon courage ...

Ex 1 : Préciser si les affirmations suivantes sont vraies ou fausses

(Seulement pour cet exercice : +1 réponse juste / -1 réponse fausse / 0 pas de réponse)



1) Les droites (AB) et (CD) sont parallèles.	
2) Les droites (AD) et (BC) sont sécantes.	
3) $ABCD$ est un parallélogramme.	
4) $ABCD$ est un trapèze.	
5) $[AC]$ et $[BD]$ ont même milieu.	

Ex 2 :

Dans un même repère orthonormé, représenter les droites d_1, d_2, d_3 et d_4 de coefficients directeurs respectifs $\frac{3}{4}, -2, \frac{1}{2}$ et $-\frac{3}{7}$, sachant que pour **chaque droite** le point d'abscisse 2 a pour ordonnée 5.

Ex 3 :

Dans le plan muni d'un repère (O, I, J) , on donne les points $A\left(\frac{19}{4}; 3\right)$ et $B\left(-3; -\frac{19}{10}\right)$.

- 1) Les points O, A et B sont-ils alignés? Justifier.
- 2) Déterminer l'équation de la droite d parallèle à (OA) passant par le milieu I de $[AB]$

Ex 4 :

On considère le système (S)
$$\begin{cases} 2x - 3y = -1 \\ 5x + y = 23 \end{cases}$$

En utilisant une interprétation géométrique (et sans faire de dessin), vérifier que le système a bien une solution.

Question bonus : Résoudre le système

Ex 5 :

Dans le plan muni d'un repère (O, I, J) , on donne les points $A(-5; 2\sqrt{3}), B(2; \sqrt{12})$ et $C(2; \sqrt{17})$

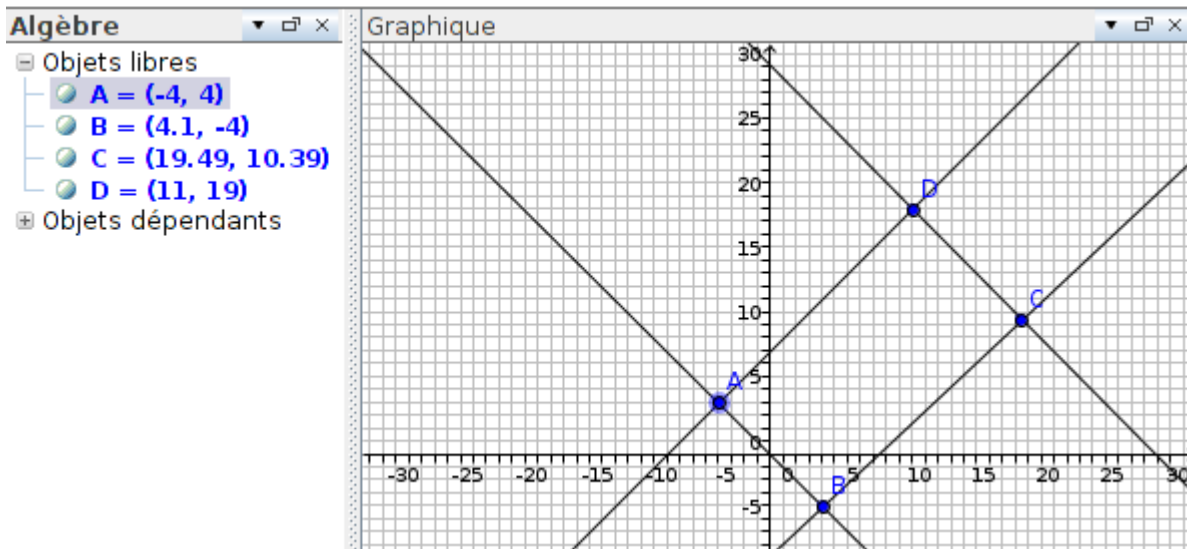
Déterminer les équations des droites (AB) et (BC) .

En déduire les coordonnées du point d'intersection E de ces deux droites.

CORRECTION

Ex 1 : Préciser si les affirmations suivantes sont vraies ou fausses

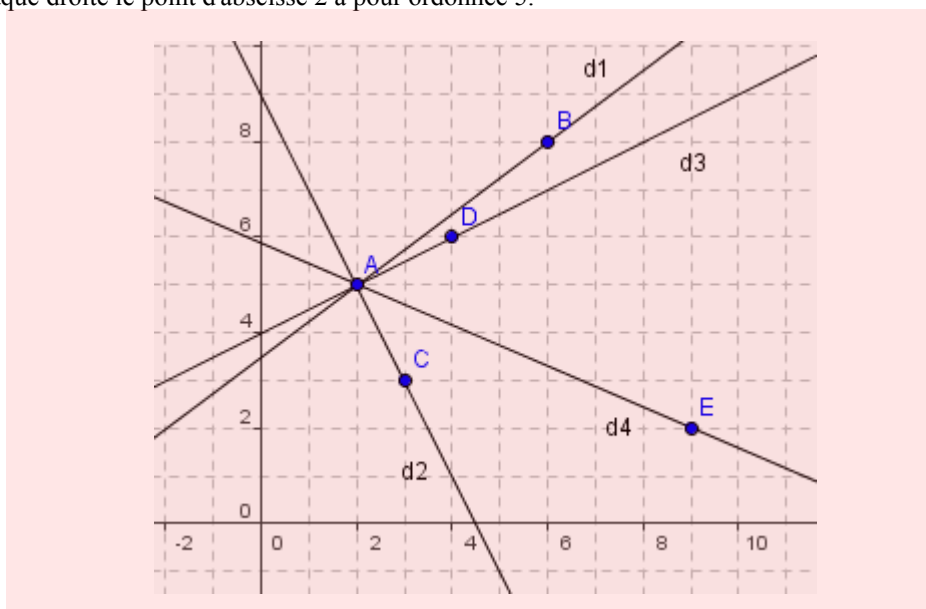
(Seulement pour cet exercice : +1 réponse juste / -1 réponse fausse / 0 pas de réponse)



1) Les droites (AB) et (CD) sont parallèles.	non
2) Les droites (AD) et (BC) sont sécantes.	oui
3) $ABCD$ est un parallélogramme.	non
4) $ABCD$ est un trapèze.	non
5) $[AC]$ et $[BD]$ ont même milieu.	non

Ex 2 :

Dans un même repère orthonormé, représenter les droites d_1 , d_2 , d_3 et d_4 de coefficients directeurs respectifs $\frac{3}{4}$, -2 , $\frac{1}{2}$ et $-\frac{3}{7}$, sachant que pour chaque droite le point d'abscisse 2 a pour ordonnée 5.



Ex 3 :

Dans le plan muni d'un repère (O, I, J) , on donne les points $A\left(\frac{19}{4}; 3\right)$ et $B\left(-3; -\frac{19}{10}\right)$.

1) Les points O , A et B sont-ils alignés ? Justifier.

(OA) a pour coefficient directeur $\frac{12}{19}$ et (OB) a pour coefficient directeur $\frac{19}{30}$.

Attention : $\frac{12}{19} \approx 0,631$ (à 10^{-3} près) et $\frac{19}{30} \approx 0,633$ (à 10^{-3} près)

Mais les fractions irréductibles $\frac{12}{19}$ et $\frac{19}{30}$ sont différentes ...

Donc les points O , A et B ne sont pas alignés.

2) Déterminer l'équation de la droite d parallèle à (OA) passant par le milieu I de $[AB]$

Le milieu I de $A\left(\frac{19}{4}; 3\right)$ et $B\left(-3; -\frac{19}{10}\right)$ a pour coordonnées $\left(\frac{\frac{19}{4}-3}{2}; \frac{3-\frac{19}{10}}{2}\right)$ c'est à dire $\left(\frac{7}{8}; \frac{11}{20}\right)$

d est parallèle à (OA) , elle a donc une équation de la forme $y = \frac{12}{19}x + b$ ($b \in \mathbb{R}$)

d passe par I . On a donc :

$$\frac{11}{20} = \frac{12}{19} \times \frac{7}{8} + b \Leftrightarrow b = -\frac{1}{380}$$

$$\text{Ainsi } d : y = \frac{12}{19}x - \frac{1}{380}$$

Ex 4 :

On considère le système (S) $\begin{cases} 2x - 3y = -1 \\ 5x + y = 23 \end{cases}$

En utilisant une interprétation géométrique (et sans faire de dessin), vérifier que le système a bien une solution.

La première équation s'écrit $y = \frac{2}{3}x + \frac{1}{3}$ et la deuxième équation $y = -5x + 23$.

$\frac{2}{3} \neq -5$. Ce sont donc les équations de deux droites sécantes et le système a bien une unique solution, le couple de coordonnées du point d'intersection de ces deux droites.

Question bonus : Résoudre le système

$$\begin{cases} 2x - 3y = -1 \\ 5x + y = 23 \end{cases} \Leftrightarrow \begin{cases} 10x - 15y = -5 \ (L_1 := 5L_1) \\ 10x + 2y = 46 \ (L_2 := 2L_2) \end{cases} \Leftrightarrow \begin{cases} 10x - 15y = -5 \ (L_1 := 5L_1) \\ 17y = 51 \ (L_2 := L_2 - L_1) \end{cases} \Leftrightarrow \begin{cases} 10x - 15y = -5 \\ y = 3 \end{cases} \Leftrightarrow \begin{cases} x = 4 \\ y = 3 \end{cases}$$

Ex 5 :

Dans le plan muni d'un repère (O, I, J) , on donne les points $A(-5; 2\sqrt{3})$, $B(2; \sqrt{12})$ et $C(2; \sqrt{17})$

Déterminer les équations des droites (AB) et (BC) .

En déduire les coordonnées du point d'intersection E de ces deux droites.

$$y_A = y_B = 2\sqrt{3} \dots \text{ donc } (AB) \text{ a pour équation } y = 2\sqrt{3}$$

$$x_A = x_B = 2 \dots \text{ donc } (BC) \text{ a pour équation } x = 2$$

On en déduit que E a pour coordonnées $(2; 2\sqrt{3})$