

Affirmations et contre-exemples

Ex 1 : Triangle inscrit dans un cercle

1) Tracer un cercle C et placer trois points A, B, D sur ce cercle. Le triangle est-il rectangle ?

2) Peut-on dire que si trois points A, B, D sont sur un cercle, alors le triangle ABD rectangle ?

Ex 2 : Hauteur

1) Tracer un triangle ABC et la hauteur issue de C . Cette hauteur coupe le côté (AB) en D . Le point D est-il le milieu de $[AB]$?

2) Peut-on dire que dans un triangle, une hauteur coupe le côté opposé en son milieu ?

Ex 3 : Rectangle

1) Tracer deux segments $[AC]$ et $[BD]$ qui se coupent et qui soient de même longueur. Tracer le quadrilatère $ABCD$. Ce quadrilatère est-il un rectangle ?

2) Peut-on dire que si les diagonales d'un quadrilatère sont de même longueur, alors ce quadrilatère est un rectangle ?

Ex 4 : Losange

1) Tracer deux segments $[AC]$ et $[BD]$ qui se coupent et qui soient perpendiculaires. Tracer le quadrilatère $ABCD$. Ce quadrilatère est-il un losange ?

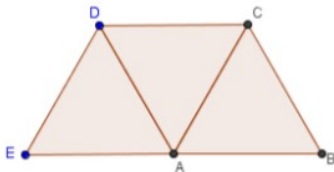
2) Peut-on dire que si les diagonales d'un quadrilatère sont perpendiculaires, alors ce quadrilatère est un losange ?

Triangles, quadrilatères et cercles

Ex 5 : Triangle inscrit dans un cercle

ABC, ACD et ADE sont trois triangles équilatéraux disposés comme sur la figure ci-dessous :

Démontrer que le triangle BCE est un triangle rectangle.



Ex 6 : Médianes

$ABCD$ est un parallélogramme de centre O . Les points E et I sont les milieux respectifs des segments $[AD]$ et $[AB]$.

Les droites (AC) et (BE) se coupent en L .

Démontrer que les points D, L et I sont alignés.

Ex 7 : Droites perpendiculaires

C et C' sont deux cercles de même rayon et de centres respectifs O et O' . Ces deux cercles sont sécants en deux points A et B .

Démontrer que les droites (OO') et (AB) sont perpendiculaires.

Ex 8 : Triangle inscrit dans un cercle

ABC est un triangle isocèle en A . D est le symétrique de B par rapport à A . Démontrer que le triangle BCD est un triangle rectangle.

Ex 9 : Droites perpendiculaires

ABC est un triangle isocèle en A .

Les parallèles à (AC) passant par B et à (AB) passant par C se coupent en un point M .

Démontrer que les droites (AM) et (BC) sont perpendiculaires.

Ex 10 : Quadrilatères

$[AB]$ et $[CD]$ sont deux diamètres quelconques d'un cercle. Quelle est la nature du quadrilatère $ACBD$? Justifier.

Ex 11 : Thalès, centre de gravité

$ABCD$ est un parallélogramme, I est le milieu de $[AB]$ et K est le milieu de $[CD]$.

La droite (AK) coupe la droite (BD) en M et la droite (CI) coupe la droite (BD) en N .

1) Démontrer que $BN=NM=MD$.

2) Quel rôle joue le point N pour le triangle ABC ?


Ex 12 : Triangles semblables

1) Soit ABC un triangle quelconque et I et J les milieux respectifs de $[AB]$ et $[AC]$. Justifier que ABC et AIJ sont semblables.

2) Deux triangles rectangles isocèles sont-ils semblables ?

Ex 13 : Cercle tangent à une droite

Tracer un cercle tangent à d et passant par A .



Ex 14 : Tangente à un cercle

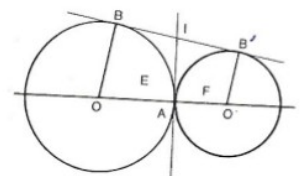
Soit un carré $ABCD$ de centre O .

1) Donner, en justifiant, deux droites tangentes au cercle C de centre A et passant par B .

2) Donner, en justifiant, une droite tangente au cercle C' de centre A et passant par O .

Ex 15 : Défi : Cercles tangents - droite tangente à un cercle

Sur la figure, les cercles sont tangents en A , les droites (BB') et (IA) sont tangentes aux deux cercles.



1) Montrer que I est le milieu de $[BB']$ et que le triangle BAB' est rectangle.

2) Démontrer que le triangle OIO' est rectangle.

3) Démontrer que le cercle de diamètre $[OO']$ est tangent en I à la droite (BB') .

Symétrie

Ex 16 :

Tracer un triangle ABC et placer un point M sur le côté $[BC]$. Construire le point N symétrique du point M par rapport à (AB) et le point P symétrique du point M par rapport à (AC) .

Démontrer que l'aire du pentagone $APCBN$ reste égale au double de l'aire du triangle ABC lorsque le point M décrit le côté $[BC]$.

Ex 17 :

Tracer un cercle C de centre O et une droite d .

1) Tracer l'axe de symétrie de cette figure.

2) Cette figure a-t-elle un centre de symétrie ? Si la réponse est non, tracer une deuxième fois la figure de telle façon qu'il y ait un centre de symétrie.

Conjecturer avec GeoGebra

Ex 18 : GeoGebra – angles

ABCD est un carré. I est le point à l'intérieur du carré et L est le point à l'extérieur du carré tels que les triangles DCI et BCL soient équilatéraux.

1) **Conjecture.**

a) Avec le logiciel GeoGebra, tracer un carré ABCD de côté variable. Utiliser la fonction « Angle de mesure donnée » pour construire les points I et L.

b) Tracer la droite (AI). Faire varier le côté du carré et conjecturer une propriété sur les points A, I et L.

2) **Preuve.**

On se place dans le repère orthonormé (A;B;D) ?

a) Donner dans ce repère les coordonnées des points D, C, A et B.

b) Calculer les valeurs exactes des coordonnées des points I et L.

c) Démontrer la conjecture émise à la question 1)

Ex 19 : GeoGebra – quadrilatères – droite des milieux

A, B, C et D sont quatre points distincts deux à deux. E, F, G et H sont les milieux respectifs des côtés [AB], [BC], [CD] et [DA].

1) **Expérimentation.**

a) Avec le logiciel GeoGebra, faire cette figure.

b) Déformer le quadrilatère ABCD. Conjecturer la nature du quadrilatère EFGH.

c) Semble-t-il possible de choisir ABCD de façon que le quadrilatère EFGH soit :
- Un rectangle ? - Un losange ? - Un carré ?

2) **Preuve.**

a) Démontrer que les droites (EF) et (GH) sont parallèles, puis qu'il en est de même de (HE) et (FG).

b) Conclure quand à la nature du quadrilatère EFGH.

c) Quelles propriétés doivent avoir les diagonales du quadrilatère ABCD pour que EFGH soit :
- Un rectangle ? - Un losange ? - Un carré ?

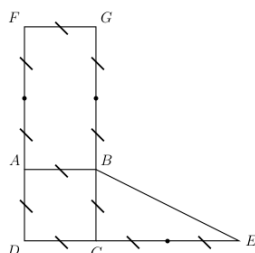
3) **Cas particuliers.**

Que sait-on pour le quadrilatère EFGH lorsque le quadrilatère ABCD est :
- Un rectangle ? - Un losange ? - Un carré ?

Utilisation d'un repère du plan (géométrie analytique)

Ex 20 :

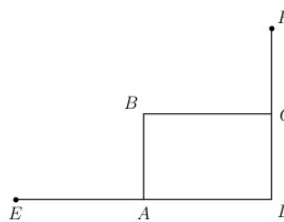
Dans le repère (D,C,A), la droite (DC) est l'axe des abscisses, la droite (DA) est l'axe des ordonnées, le segment [DC] indique l'unité sur l'axe des abscisses, le segment [DA] indique l'unité sur l'axe des ordonnées.



Dans ce repère donner les coordonnées des points A, B, C, D, E, F, G.

Ex 21 :

Dans la figure ci-dessous, ABCD est un rectangle tel que $AD=3\text{cm}$ et $AB=2\text{cm}$, le point E est le symétrique de D par rapport à A et le point F est le symétrique de D par rapport à C.



Quel est le milieu du segment [EF] ? Le démontrer.

On pourra choisir un repère, déterminer les coordonnées de E et F dans ce repère et calculer les coordonnées du milieu de [EF].

Ex 22 : Milieu et triangle isocèle

ABCD est un rectangle tel que $AB=14\text{cm}$ et $AD=8\text{cm}$. Les diagonales de ce rectangle se coupent en E. Les points F et G sont les milieux respectifs des segments [AB] et [EC].

1) Tracer la figure.

2) Tracer le triangle DFG. Ce triangle est-il isocèle ? Démontrer la réponse.

Ex 23 : Triangle rectangle

Dans un repère orthonormal d'origine O, on donne les points $M(3;2)$, $N(-2,-3)$ et $P(-4;3)$.

Le triangle MNP est-il rectangle ?

Ex 24 : Alignements de trois points

On considère un parallélogramme ABCD de centre O, le point E symétrique de B par rapport à A, le point F symétrique de O par rapport à C et J le milieu de [BF].

1) Faire une figure.

2) En utilisant le repère (A,B,O), montrer que les points E, O et J sont alignés.

Ex 25 : Parallèle à une droite donnée

On considère un rectangle OABC et le repère (O,A,C). Déterminer l'équation de la diagonale (OB) puis de la parallèle à (OB) passant par le milieu I du segment [AB].

Ex 26 : Carré

Dans un repère orthonormal d'origine O, on donne les points $A(-1;-1)$, $B(1;3)$ et $C(5;1)$.

1) Placer ces points. Que peut-on conjecturer quant à la nature du triangle ABC ? Justifier la conjecture.

2) Déterminer les coordonnées du milieu K de [AC], le placer sur le dessin.

3) On note D le symétrique du point B par rapport au point K. calculer les coordonnées de ce point D.

4) Reconnaître la nature du quadrilatère ABCD. Justifier.

Ex 27 : Fonction affine

Dans un repère orthonormal d'origine O, on donne les points A(3;3), B(7;4) et C(0;3)

f est la fonction affine définie par $f(x) = -\frac{5}{7}x + 5$

- 1) a) Tracer la droite d représentant la fonction f .
- b) On note E et F les points d'intersection respectifs de d avec l'axe des abscisses et l'axe des ordonnées. Retrouver ces résultats par le calcul.
- 2) Justifier que les droites (FC) et (BE) sont parallèles.
- 3) Les points F, A et E sont-ils alignés ?

Algorithmes – Programmation

Ex 28 : Comprendre un programme

On considère le programme écrit en python ci-dessous :

```
from math import sqrt          (Faire tourner le programme)
xA=float(input("xA="))
yA=float(input("yA="))
d=sqrt(xA**2+yA**2)
if d<=1:
    print("oui")
else:
    print("non")
```

- 1) Quel est l'affichage en sortie avec A(2;1) ? Avec A(-1;0) ? Avec $A\left(\frac{1}{2}; \frac{1}{4}\right)$
- 2) Où doit se situer A dans le plan pour que l'affichage en sortie soit « oui »

Ex 29 :

```
Lire xA , yA , xB , yB , xC , yC      (Faire tourner le programme)

xI ← (xA + xC) / 2
yI ← (yA + yC) / 2

xD ← 2xI - xB
yD ← 2yI - yB

Afficher xD , yD
```

- 1) Faire fonctionner cet algorithme dans chacun des cas ci-dessous ; tracer un repère orthonormé et placer les points A, B, C et D.
 - A(2;-1) , B(3;1) , C(5;4)
 - A(2;2) , B(-4;-19) , C(1;-1,5)
- 2) Conjecturer le rôle de cet algorithme.
- 3) Prouver cette conjecture.
- 4) Traduire cet algorithme en python.
- 5) Tester le bon fonctionnement du programme.

Ex 30 :

Lire $x_A , y_A , x_B , y_B , x_C , y_C$

$$D_1 \leftarrow (x_B - x_A)^2 + (y_B - y_A)^2$$

$$D_2 \leftarrow (x_C - x_A)^2 + (y_C - y_A)^2$$

Si $D_1 = D_2$ alors

Afficher

Finsi
Sinon

Afficher

FinSinon

Quel est le rôle de cet algorithme ?

On a effacé les messages à afficher dans le test «si....alors....sinon...».

Retrouver ces messages à propos du triangle ABC.